

الأولمبياد الوطنية للرياضيات

مقترح حلول تمارين امتحان التصفيات النهائية

اليوم الثاني

17 مارس 2008

المدة: 4 ساعات ونصف

التمرين الرابع

املا الفراغات في الإطار التالي بأرقام بحيث تكون كل العبارات داخل الإطار صحيحة.

في هذا الإطار فإن:

عدد مرات ظهور الرقم 0 هو بالضبط
عدد مرات ظهور الرقم 1 هو بالضبط
عدد مرات ظهور الرقم 2 هو بالضبط
عدد مرات ظهور الرقم 3 هو بالضبط
عدد مرات ظهور الرقم 4 هو بالضبط
عدد مرات ظهور الرقم 5 هو بالضبط
عدد مرات ظهور الرقم 6 هو بالضبط

حل للتمرين الرابع

في هذا الإطار فإن:

عدد مرات ظهور الرقم 0 هو 1 بالضبط
عدد مرات ظهور الرقم 1 هو 4 بالضبط
عدد مرات ظهور الرقم 2 هو 3 بالضبط
عدد مرات ظهور الرقم 3 هو 2 بالضبط
عدد مرات ظهور الرقم 4 هو 2 بالضبط
عدد مرات ظهور الرقم 5 هو 1 بالضبط
عدد مرات ظهور الرقم 6 هو 1 بالضبط

حل ثان أبسط للتمرين الرابع

في هذا الإطار فإن:

عدد مرات ظهور الرقم 0 هو 1 بالضبط
عدد مرات ظهور الرقم 1 هو 7 بالضبط
عدد مرات ظهور الرقم 2 هو 1 بالضبط
عدد مرات ظهور الرقم 3 هو 1 بالضبط
عدد مرات ظهور الرقم 4 هو 1 بالضبط
عدد مرات ظهور الرقم 5 هو 1 بالضبط
عدد مرات ظهور الرقم 6 هو 1 بالضبط

التمرين الخامس

عند حساب العبارة: $x = \sqrt[3]{6 + \sqrt{\frac{847}{27}}} + \sqrt[3]{6 - \sqrt{\frac{847}{27}}}$ باستخدام آلة حاسبة

وجدنا $x = 2.9999999999999999$

احسب القيمة المضبوطة للعدد x ؟

حل للتمرين الخامس:

بوضع $t = \sqrt{\frac{847}{27}}$ نجد $x = \sqrt[3]{6+t} + \sqrt[3]{6-t}$

و بتكعيب الطرفين نجد: $x^3 = 6+t + 3\sqrt{(6+t)^2(6-t)} + 3\sqrt{(6+t)(6-t)^2} + 6-t$

$$x^3 = 12 + 3\sqrt{(6+t)(36-t^2)} + 3\sqrt{(6-t)(36-t^2)}$$

$$x^3 = 12 + 3\sqrt{36-t^2}(\sqrt[3]{6+t} + \sqrt[3]{6-t})$$

$$x^3 = 12 + \left(3\sqrt[3]{36 - \frac{847}{27}}\right)x$$

$$x^3 = 12 + \left(3\sqrt[3]{\frac{125}{27}}\right)x$$

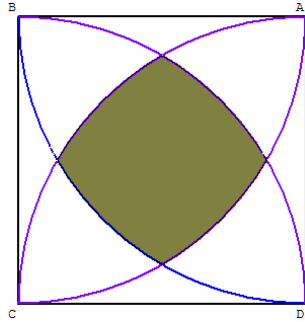
$$x^3 - 5x - 12 = 0 \quad \text{ومنه:}$$

نلاحظ أن $x_0 = 3$ هو حل بديهي للمعادلة $x^3 - 5x - 12 = 0$ ومن التفكيك $x^3 - 5x - 12 = (x-3)(x^2 + 3x + 4)$ ؛

بحساب مميز المعادلة $x^2 + 3x + 4 = 0$ نجد $\Delta = -7$ أي أنها لا تقبل حلا في \mathbb{R} ؛

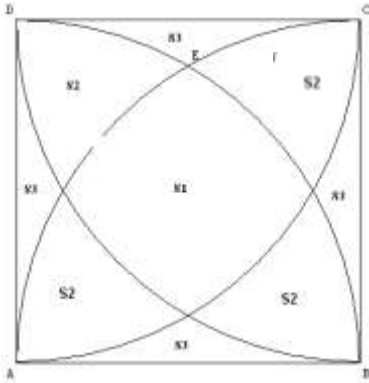
إذن المعادلة $x^3 - 5x - 12 = 0$ تقبل حلا وحيدا في \mathbb{R} هو $x_0 = 3$ ومنه فإن $x = x_0$ ؛

$$\text{إذن: } \sqrt[3]{6 + \sqrt{\frac{847}{27}}} + \sqrt[3]{6 - \sqrt{\frac{847}{27}}} = 3$$

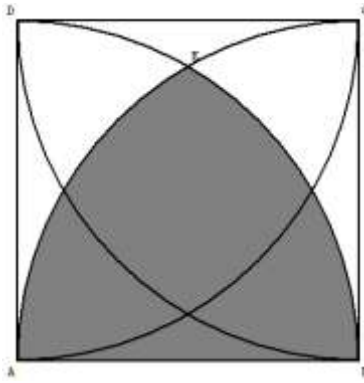


في الشكل المقابل: $ABCD$ مربع طول ضلعه a والمنحنيات الواصلة بين رؤوسه المتقابلة هي أرباع دوائر. احسب المساحة المظللة بدلالة a .

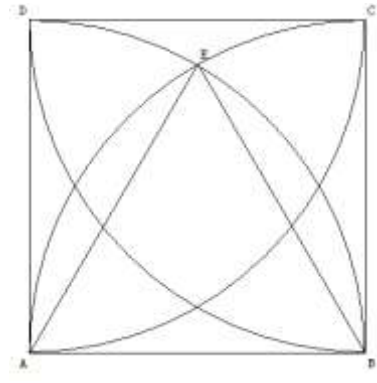
حل أول للتمرين السادس:



الشكل 3



الشكل 2



الشكل 1

في الشكل 1: فإن مساحة القطاع الدائري (ABE) هي: $A_1 = \frac{1}{6}\pi a^2$ و مساحة المثلث متساوي الأضلاع ABE

هي: $S_{ABE} = \frac{1}{4}a^2\sqrt{3}$. ومساحة القطاع الدائري (BCA) هي ربع مساحة دائرة وتساوي $S_{BCA} = \frac{1}{4}\pi a^2$

في الشكل 2: المساحة المظللة هي: $A_2 = 2A_1 - S_{ABE} = \frac{1}{3}\pi a^2 - \frac{\sqrt{3}}{4}a^2$ و منه فإن: $A_2 = (\frac{1}{3}\pi - \frac{\sqrt{3}}{4})a^2$.

في الشكل 3: مساحة المربع مقسمة إلى 9 أجزاء وتحقق مل يلي:

$$\begin{cases} A_2 = S_1 + 2S_2 + S_3 & (1) \\ S_{ABCD} = S_1 + 4S_2 + 4S_3 & (2) \\ S_{(BCA)} = S_1 + 3S_2 + 2S_3 & (3) \end{cases}$$

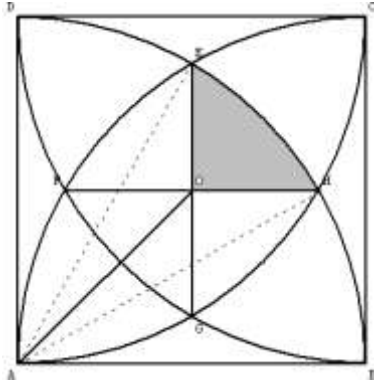
$$\begin{cases} S_1 + 2S_2 + S_3 = (\frac{1}{3}\pi - \frac{\sqrt{3}}{4})a^2 & (1) \\ S_1 + 4S_2 + 4S_3 = a^2 & (2) \\ S_1 + 3S_2 + 2S_3 = \frac{\pi}{4}a^2 & (3) \end{cases}$$

من (1)-(3) نجد $S_2 + S_3 = (\frac{\sqrt{3}}{4} - \frac{\pi}{12})a^2$.

من (2) نجد $S_1 + 4(S_2 + S_3) = a^2$ وعليه فإن المساحة المطلوبة هي: $S_1 = a^2 - 4\left(\frac{\sqrt{3}}{4} - \frac{\pi}{12}\right)a^2$ ؛

$$\text{إذن: } S_1 = a^2\left(1 - \sqrt{3} + \frac{\pi}{3}\right)$$

حل ثان للتمرين السادس



المساحة A_0 المظللة في الشكل المقابل تساوي ربع المساحة المطلوبة S_1 ولدينا:

$$\text{ومنه } \angle OAE = \angle HAO = \frac{\pi}{3} - \frac{\pi}{4} = \frac{\pi}{12}$$

$$\begin{cases} \angle BAE = \frac{\pi}{3} \\ \angle BAO = \frac{\pi}{4} \end{cases}$$

$$\text{إذن: } \angle HAE = \frac{\pi}{6}$$

المساحة A_0 للمنطقة المظللة EOH تساوي الفرق بين المساحة A_1 للقطاع الدائري HAE و ضعف المساحة A_2 للمثلث OAE .

لدينا:

$$A_1 = \frac{\pi}{12} a^2$$

$$A_2 = \frac{1}{2} AH \times AO \times \sin\left(\frac{\pi}{12}\right)$$

$$A_2 = \frac{1}{2} a \times \frac{a}{\sqrt{2}} \times \sqrt{\frac{1 - \cos\left(\frac{\pi}{6}\right)}{2}}$$

$$= \frac{a^2}{4} \times \sqrt{1 - \frac{\sqrt{3}}{2}}$$

$$A_2 = \frac{a^2}{4} \times \sqrt{\frac{4 - 2\sqrt{3}}{4}} = \frac{a^2}{4} \times \sqrt{\frac{(1 - \sqrt{3})^2}{4}}$$

$$= \frac{a^2}{4} \times \frac{\sqrt{3} - 1}{2} = \frac{a^2}{8} (\sqrt{3} - 1)$$

$$A_2 = \frac{a^2}{8} (\sqrt{3} - 1)$$

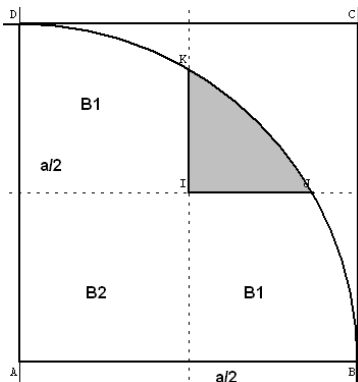
وتكون المساحة المظللة هي:

$$A_0 = A_1 - 2A_2$$

$$A_0 = \frac{a^2}{4} \left(\frac{\pi}{3} - \sqrt{3} + 1\right)$$

$$S_1 = a^2\left(1 - \sqrt{3} + \frac{\pi}{3}\right) \quad \text{فإن} \quad S_1 = 4A_0 \quad \text{وبما أن:}$$

حل ثالث للتمرين السادس



نسب المستوى إلى مرجع قائم ومنتظم $(A; \vec{i}, \vec{j})$ حيث: $\vec{i} = \frac{1}{a} \overrightarrow{AB}$ و $\vec{j} = \frac{1}{a} \overrightarrow{AD}$.

نعتبر المساحة المظللة A_0 في الشكل المقابل؛ إضافة إلى المساحات المبينة على الشكل.

نعلم أن معادلة الدائرة (C) ذات المركز A و الشعاع a هي: $x^2 + y^2 = a^2$ و منه $B1 + B2 = \int_0^{\frac{a}{2}} \sqrt{a^2 - x^2} dx$.

بوضع $x = a \sin t$ حيث $0 \leq t \leq \frac{\pi}{2}$ في التكامل السابق نجد:

$$\begin{cases} x = 0 \Rightarrow t = 0 \\ x = \frac{\pi}{2} \Rightarrow t = \frac{\pi}{6} \\ dx = a \cos t dt \end{cases}$$

$$B1 + B2 = \int_0^{\frac{\pi}{6}} \sqrt{a^2 - a^2 \sin^2 t} (a \cos t) dt \quad \text{وبالتعويض نجد:}$$

$$B1 + B2 = a^2 \int_0^{\frac{\pi}{6}} \cos^2 t dt \quad \text{إذن:}$$

$$B1 + B2 = \frac{a^2}{2} \int_0^{\frac{\pi}{6}} (1 + \cos(2t)) dt$$

$$B1 + B2 = \frac{a^2}{2} \left[t + \frac{1}{2} \sin(2t) \right]_0^{\frac{\pi}{6}} = \frac{a^2}{4} \left(\frac{\sqrt{3}}{2} + \frac{\pi}{3} \right)$$

لدينا أن ربع مساحة الدائرة (C) هو: $A_0 + 2B1 + B2 = \frac{\pi}{4} a^2$ و منه فإن: $A_0 = \frac{\pi}{4} a^2 - 2(B1 + B2) + B2$ وبملاحظة

أن $B_2 = \frac{1}{4} a^2$ فإن $A_0 = \frac{\pi}{4} a^2 - \frac{a^2}{2} \left(\frac{\sqrt{3}}{2} + \frac{\pi}{3} \right) + \frac{a^2}{4}$ و منه $A_0 = \frac{a^2}{4} \left(\frac{\pi}{3} - \sqrt{3} + 1 \right)$ و بما أن المساحة المطلوبة هي و

$$S_1 = a^2 \left(1 - \sqrt{3} + \frac{\pi}{3} \right) \quad \text{فإن} \quad S_1 = 4A_0$$