

EXERCICE 1

Pour tout nombre complexe z on a : $P(z) = z^3 - (1 + 2\cos\theta)z^2 + (1 + 2\cos\theta)z - 1$ où $\theta \in [0; 2\pi[$.

1.a) Calcul de $P(1)$:

$$\begin{aligned} P(1) &= 1^3 - (1 + 2\cos\theta) \times 1^2 + (1 + 2\cos\theta) \times 1 - 1 \\ &= 1 - 1 - 2\cos\theta + 1 + 2\cos\theta - 1 \\ &= 0 \end{aligned}$$

- Pour résoudre, dans \mathbb{C} , l'équation $P(z) = 0$, on factorise $P(z)$ et pour cela on peut utiliser la division euclidienne, une identification, ou bien le tableau d'Horner : 1 est une racine du polynôme P

	1	-1 - 2cosθ	1 + 2cosθ	-1
1		1	-2cosθ	1
	1	-2cosθ	1	0

Alors Pour tout nombre complexe z on a : $P(z) = (z - 1)(z^2 - 2\cos\theta z + 1)$

$$P(z) = 0 \Leftrightarrow (z - 1)(z^2 - 2\cos\theta z + 1) = 0$$

soit $z - 1 = 0 \Rightarrow z_0 = 1 \in \mathbb{R}$

ou $z^2 - 2\cos\theta z + 1 = 0$

Réolvons l'équation : $z^2 - 2\cos\theta z + 1 = 0$

$$\begin{aligned} \Delta' &= (-\cos\theta)^2 - 1 \times 1 \\ &= \cos^2\theta - 1 \\ &= -(1 - \cos^2\theta) \\ &= (\sin\theta)^2 \end{aligned}$$

Donc

$$\begin{aligned} z' &= \frac{\cos\theta + i\sin\theta}{1} = \cos\theta + i\sin\theta \\ z'' &= \frac{\cos\theta - i\sin\theta}{1} = \cos\theta - i\sin\theta \end{aligned}$$

Si $\sin\theta \geq 0$, $\text{Im}(z_1) \geq 0 \Rightarrow z_1 = z' = \cos\theta + i\sin\theta$ si $\theta \in [0, 2\pi[$

Alors : $z_2 = \cos\theta - i\sin\theta$.

Donc l'ensemble de solutions de l'équation $P(z) = 0$ dans \mathbb{C} est :

$$S = \{1; \cos\theta + i\sin\theta; \cos\theta - i\sin\theta\}.$$

2) Dans le plan complexe muni d'un repère orthonormé (O, \vec{u}, \vec{v}) les nombres z_0, z_1 et z_2 sont les affixes respectives de M_0, M_1 et M_2 . Déterminer les lieux géométriques de M_1, M_2 lors que θ décrit $[0, 2\pi[$:

$$M_1(x_{M_1}; y_{M_1}) \Rightarrow \begin{cases} x_{M_1} = \cos\theta \\ y_{M_1} = \sin\theta \Leftrightarrow x_{M_1}^2 + y_{M_1}^2 = 1 \\ \theta \in [0, 2\pi[\end{cases}$$

$\Leftrightarrow M_1$ Décrit le cercle de centre O et de rayon 1

Autrement :

$$OM_1 = |z_1 - 0| = |e^{i\theta}| = 1, \quad \theta \in]0; 2\pi[$$

Donc M_1 décrit le cercle de centre O et de rayon 1

De même pour M_2 : M_2 décrit le cercle de centre O et de rayon 1

3)

$G = \text{bar}$	M_0	M_1	M_2	$1+1-3 \neq 0$
	1	1	-3	

a) Le lieu géométrique du point G :

Calculons z_G l'affixe du point G :

$$z_G = \frac{1 \times z_0 + 1 \times z_1 - 3z_2}{1+1-3} = \frac{1 + \cos \theta + i \sin \theta - 3(\cos \theta - i \sin \theta)}{1+1-3}$$

$$z_G = -1 + 2 \cos \theta - 4i \sin \theta$$

$$\begin{cases} x = -1 + 2 \cos \theta \\ y = -4 \sin \theta \end{cases} \Leftrightarrow \begin{cases} \cos \theta = \frac{x+1}{2} \\ \sin \theta = -\frac{1}{4}y \end{cases} \quad \theta \in [0, 2\pi[$$

$$\Leftrightarrow \left(\frac{x+1}{2}\right)^2 + \left(-\frac{y}{4}\right)^2 = 1$$

Alors le lieu géométrique Γ de G est l'ellipse d'équation $\frac{(x+1)^2}{4} + \frac{y^2}{16} = 1$ dans le repère (O, \vec{u}, \vec{v}) .

b) Soient (x, y) les coordonnées de G dans le repère (O, \vec{u}, \vec{v}) et considérons le point

$\Omega(-1, 0)$; alors dans le repère $(\Omega, \vec{u}, \vec{v})$ les

coordonnées $(X; Y)$ de G vérifient : $\frac{X^2}{4} + \frac{Y^2}{16} = 1$ car

$$\begin{cases} X = x + 1 \\ Y = y \end{cases}$$

Alors le lieu géométrique Γ de G est l'ellipse dont l'équation réduite dans le repère $(\Omega, \vec{u}, \vec{v})$

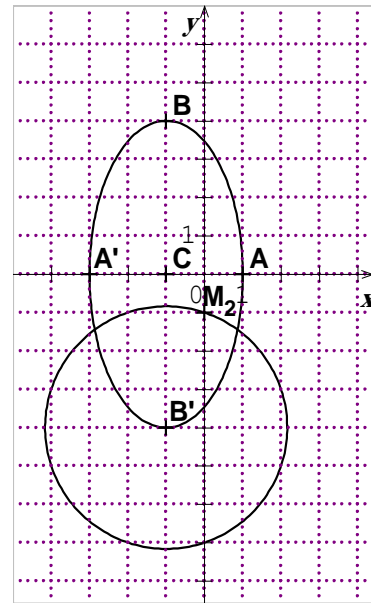
$$\frac{X^2}{2^2} + \frac{Y^2}{4^2} = 1$$

Comme $b = 4 > 2 = a$, alors les éléments caractéristiques (dans le repère $(\Omega, \vec{u}, \vec{v})$) sont :

- Le centre $\Omega(-1, 0)$,
- Les sommets:

- Dans le repère $(\Omega, \vec{u}, \vec{v})$ les sommets sont

$A(2, 0)$; $A'(-2, 0)$, $B(0, 4)$ et $B'(0, -4)$



Or $\begin{cases} X = x + 1 \\ Y = y \end{cases}$

- Donc dans le repère (O, \vec{u}, \vec{v}) les sommets sont

$A(1,0), A'(-3,0), B(-1;4)$ et $B'(-1,-4)$

- $c = \sqrt{b^2 - a^2} = \sqrt{4^2 - 2^2} = 2\sqrt{3}$
- L'excentricité : $e = \frac{c}{b} = \frac{2\sqrt{3}}{4} = \frac{\sqrt{3}}{2}$

Construction de Γ

4)

a) Si $\theta = \frac{\pi}{2}$ alors

- $z_0 = 1 \Leftrightarrow M_0(1,0)$
- $z_1 = \cos \frac{\pi}{2} + i \sin \frac{\pi}{2} \Leftrightarrow M_1(0,1)$
- $z_2 = \cos \frac{\pi}{2} - i \sin \frac{\pi}{2} \Leftrightarrow M_2(0,-1);$

Alors $z_G = -1 + 2 \cos \frac{\pi}{2} - 4i \sin \frac{\pi}{2} = -1 - 4i \Rightarrow G(-1,-4)$

En particulier, G est un sommet de Γ : $G = B'$.

b) Γ' est l'ensemble de points M du plan tels que $MM_0^2 + MM_1^2 - 3MM_2^2 = 6$

C'est la ligne de niveau 6 de la fonction scalaire de Leibniz

$\varphi(M) = MM_0^2 + MM_1^2 - 3MM_2^2$ associée au système $\{(M_0, 1), (M_1, 1), (M_2, -3)\}$ dont

le barycentre est G. Donc, par réduction d'écriture : $M \in \Gamma' \Leftrightarrow -MG^2 + \varphi(G) = 6$

$$\varphi(G) = GM_0^2 + GM_1^2 - 3GM_2^2$$

$$GM_0^2 = |z_0 - z_G|^2 = (-1-1)^2 + (-4-0)^2 = 20$$

$$GM_1^2 = |z_1 - z_G|^2 = (0+1)^2 + (1+4)^2 = 26$$

$$GM_2^2 = |z_0 - z_G|^2 = (0+1)^2 + (-1+4)^2 = 10$$

Alors $\varphi(G) = 16$

Donc $M \in \Gamma' \Leftrightarrow MG^2 = 10$ d'où Γ' est le cercle de centre G et de rayon $\sqrt{10} = GM_2$

Γ' est le cercle de centre G passant par M_2 car $GM_2^2 = 10$.

Autre méthode

$$\varphi(M_2) = M_2M_0^2 + M_2M_1^2 - 3M_2M_2^2$$

$$= ((1-0)^2 + (0+1)^2) + ((0-0)^2 + (1+1)^2) - 0 = 6$$

Alors $M_2 \in \Gamma'$. Donc $\Gamma' \neq \{ \}$ et $\Gamma' \neq \{G\}$. Par suite Γ' est le cercle de centre G passant par M_2 .

EXERCICE 2

Soit f la fonction définie par $\begin{cases} f(x) = x(1 - \ln x) & \text{si } x > 0 \\ f(0) = 0 \end{cases}$,

(C) sa courbe représentative dans un repère orthonormé (O, \vec{u}, \vec{v})

1) a)- Continuité de f à droite en 0 :

$$\lim_{x \rightarrow 0^+} f(x) = \lim_{x \rightarrow 0^+} x(1 - \ln x) = \lim_{x \rightarrow 0^+} (x - x \ln x) = 0 - 0 = 0$$

Comme $\lim_{x \rightarrow 0^+} f(x) = f(0)$, alors f est continue en 0^+

- Dérivabilité de f à droite en 0 :

$$\lim_{x \rightarrow 0^+} \frac{f(x) - f(0)}{x - 0} = \lim_{x \rightarrow 0^+} \frac{x(1 - \ln x) - 0}{x - 0} = \lim_{x \rightarrow 0^+} (1 - \ln x) = 1 + \infty = +\infty$$

Donc f n'est pas dérivable en 0^+ .

Interprétation graphique: la courbe de f admet, à droite de 0 , une demi-tangente verticale dirigée vers le haut.

b- Les variations de f :

- Les limites de f aux bornes de son domaine de définition:

$$\lim_{x \rightarrow +\infty} f(x) : \begin{cases} \lim_{x \rightarrow +\infty} x = +\infty \\ \lim_{x \rightarrow +\infty} (1 - \ln x) = -\infty \end{cases} \Rightarrow \lim_{x \rightarrow +\infty} f(x) = -\infty$$

$$\lim_{x \rightarrow 0^+} f(x) = 0$$

- La dérivée de f :

$$f'(x) = 1 - \ln x + x \times \frac{-1}{x} = 1 - \ln x - 1 = -\ln x$$

$$D'où \begin{cases} f'(x) \leq 0, & x \geq 1 \\ f'(x) \geq 0, & x \in [0, 1] \end{cases}$$

$$f'(1) = 0 \text{ et } f(1) = 1(1 - \ln 1) = 1$$

- Tableau de variation de f :

x	0	1	$+\infty$
$f'(x)$	$+$	0	$-$
$f(x)$	0	1	$-\infty$

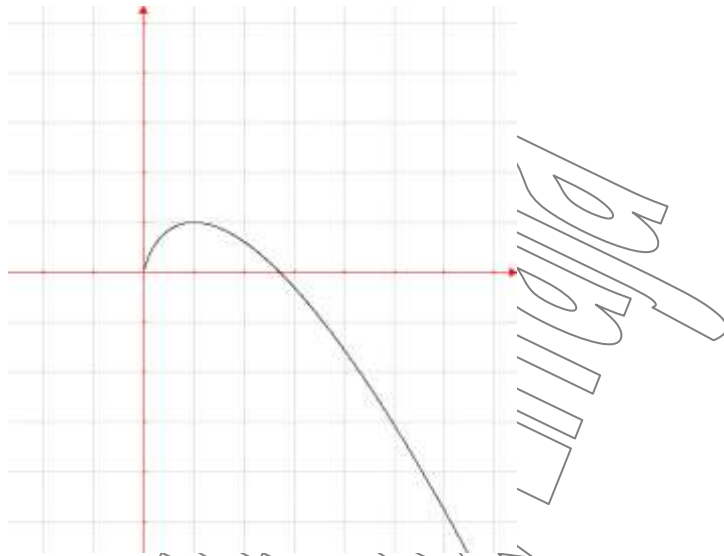
c- Calcul de $\lim_{x \rightarrow +\infty} \frac{f(x)}{x}$

$$\lim_{x \rightarrow +\infty} \frac{f(x)}{x} = \lim_{x \rightarrow +\infty} \frac{x(1 - \ln x)}{x} = \lim_{x \rightarrow +\infty} (1 - \ln x) = 1 - \infty = -\infty$$

- Donc la courbe de f admet, au voisinage de $+\infty$, une branche parabolique de direction (Oy)

- L'intersection de (C) avec l'axe (Ox) :

$$f(x) = 0 \Leftrightarrow x(1 - \ln x) = 0 \Leftrightarrow \begin{cases} 1 - \ln x = 0 \Leftrightarrow \ln x = 1 \Leftrightarrow x = e \\ \text{ou } x = 0 \end{cases}$$



2) Soit f_n la fonction définie pour $n \geq 1$ par $\begin{cases} f_n(x) = x^n(1 - \ln x) & x > 0 \\ f_n(0) = 0 \end{cases}$ et (C_n) sa

courbe représentative dans un repère orthonormé (O, \vec{u}, \vec{v})

a)- La continuité de f_n à droite en 0, pour $n \geq 2$

$$\lim_{x \rightarrow 0^+} f_n(x) = \lim_{x \rightarrow 0^+} x^n(1 - \ln x) = \lim_{x \rightarrow 0^+} (x^n - x^n \ln x) = 0 - 0 = 0$$

Donc comme $\lim_{x \rightarrow 0^+} f_n(x) = f_n(0)$ alors f_n est continue en 0^+

- La dérivabilité de f à droite en 0, pour $n \geq 2$

$$\lim_{x \rightarrow 0^+} \frac{f_n(x) - f_n(0)}{x - 0} = \lim_{x \rightarrow 0^+} \frac{x^n(1 - \ln x) - 0}{x - 0} = \lim_{x \rightarrow 0^+} x^{n-1} - x^{n-1} \ln x = 0 - 0 = 0$$

Donc f_n est pas dérivable en 0^+ .

Interprétation graphique : la courbe de f_n admet, à droite de 0, une demi-tangente horizontale d'équation $y = 0$.

b- Les variations de f_n :

- Les limites de f_n aux bornes de son domaine de définition:

$$\lim_{x \rightarrow +\infty} f_n(x) : \begin{cases} \lim_{x \rightarrow +\infty} x^n = +\infty \\ \lim_{x \rightarrow +\infty} (1 - \ln x) = -\infty \end{cases} \Rightarrow \lim_{x \rightarrow +\infty} f_n(x) = -\infty$$

$$\lim_{x \rightarrow 0^+} f_n(x) = 0$$

- La dérivée de f_n

$$f_n'(x) = nx^{n-1}(1 - \ln x) + x^n \times \frac{-1}{x} = x^{n-1}(n - 1 - n \ln x)$$

D'où:

$$\forall n \geq 1, f_n'(x) = 0 \Leftrightarrow \begin{cases} \text{soit } n \ln x = n - 1 \Leftrightarrow \ln x = \frac{n-1}{n} \Leftrightarrow x = e^{\frac{n-1}{n}} \\ \text{ou bien } nx^{n-1} = 0 \Leftrightarrow x = 0 \end{cases}$$

$$f_n\left(e^{\frac{n-1}{n}}\right) = \left(e^{\frac{n-1}{n}}\right)^n \left(1 - \ln\left(e^{\frac{n-1}{n}}\right)\right) = e^{n-1} \left(1 - \frac{n-1}{n}\right) = \frac{e^{n-1}}{n}$$

- Tableau de variation de f_n :

x	0	$e^{\frac{n-1}{n}}$	$+\infty$
$f'_n(x)$	+	0	-
$f_n(x)$	0	$\frac{e^{n-1}}{n}$	$-\infty$

- 3) a- Montrons que toutes les courbes (C_n) passent par trois points fixes, pour cela il suffit de montrer que les courbes (C_n) et (C_{n+1}) ont trois points communs :

$$f_{n+1}(x) = f_n(x) \Leftrightarrow x^{n+1}(1 - \ln x) = x^n(1 - \ln x) \Leftrightarrow x^n(1 - \ln x)(x - 1) = 0$$

$$\Leftrightarrow x = 0 \text{ ou } x = 1 \text{ ou } x = e$$

Donc toutes les courbes (C_n) passent par les trois points de coordonnées $(0, f_n(0)), (1, f_n(1))$ et $(e, f_n(e))$

Alors les points de coordonnées $(0, 0), (1, 1)$ et $(e, 0)$ sont communs à toutes les courbes (C_n) .

- b- Pour étudier les positions relatives de (C_n) et (C_{n+1}) on étudie le signe de $f_{n+1}(x) - f_n(x)$

Alors d'après la question 3) a- on peut établir le tableau suivant:

x	0	1	e	$+\infty$		
$f_{n+1}(x) - f_n(x)$	0	-	0	+	0	-
Positions relatives	PI	C_n / C_{n+1}	PI	C_{n+1} / C_n	PI	C_n / C_{n+1}

- 4) Pour tout $n \geq 1$ on définit la suite $U_n = \int_{\frac{1}{e}}^1 f_n(x) dx$

- a- L'interprétation géométrique de l'intégrale U_n :

Comme (C_n) est au-dessus de (OX) sur l'intervalle $\left[\frac{1}{e}; 1\right]$ alors U_n est

l'aire du domaine plan limité par (C_n) , (OX) et les droites d'équations

$$x = \frac{1}{e}; x = 1$$

- b- Montrons sans calcul que la suite (U_n) est positive et décroissante:

- D'après le tableau de variation f_n est positive sur l'intervalle $\left[\frac{1}{e}; 1\right]$, de

plus $\frac{1}{e} \leq 1$ alors $U_n = \int_{\frac{1}{e}}^1 f_n(x) dx \geq 0$

- $U_{n+1} - U_n = \int_{\frac{1}{e}}^1 f_{n+1}(x) dx - \int_{\frac{1}{e}}^1 f_n(x) dx = \int_{\frac{1}{e}}^1 (f_{n+1}(x) - f_n(x)) dx$

Or $\frac{1}{e} \leq 1$ et d'après la question 3)b- on a $f_{n+1}(x) - f_n(x)$ est négative sur l'intervalle $\left[\frac{1}{e}; 1\right]$ alors (U_n) est décroissante.

c- L'expression de U_n en fonction de n et la limite de (U_n) :

- Calculons $U_n = \int_{\frac{1}{e}}^1 f_n(x) dx = \int_{\frac{1}{e}}^1 x^n (1 - \ln x) dx$ en utilisant une intégration par parties:

$$\begin{cases} u(x) = 1 - \ln x \Rightarrow u'(x) = -\frac{1}{x} \\ v'(x) = x^n \Rightarrow v(x) = \frac{1}{n+1} x^{n+1} \end{cases}$$

$$\text{Alors } U_n = \left[\frac{1}{n+1} x^{n+1} \times (1 - \ln x) \right]_{\frac{1}{e}}^1 - \int_{\frac{1}{e}}^1 -\frac{1}{x} \times \frac{1}{n+1} x^{n+1} dx$$

$$U_n = \left(\frac{1}{n+1} \times 1 \times (1 - \ln 1) \right) - \left(\frac{1}{n+1} \times \frac{1}{e^{n+1}} \times (1 - \ln \frac{1}{e}) \right) + \frac{1}{n+1} \int_{\frac{1}{e}}^1 x^n dx$$

$$U_n = \frac{1}{n+1} \left(1 - \frac{2}{e^{n+1}} \right) + \left(\frac{1}{n+1} \right)^2 \left[x^{n+1} \right]_{\frac{1}{e}}^1$$

$$U_n = \frac{1}{n+1} \left(1 - \frac{2}{e^{n+1}} \right) + \left(\frac{1}{n+1} \right)^2 \left(1 - \frac{1}{e^{n+1}} \right)$$

- La limite de (U_n)

Comme $\begin{cases} \lim_{n \rightarrow +\infty} \frac{1}{n+1} = 0 \\ \lim_{n \rightarrow +\infty} \frac{1}{e^{n+1}} = 0 \end{cases}$, alors $\lim_{n \rightarrow +\infty} U_n = 0$

EXERCICE 3

La fonction f définie sur \mathbb{R} par $f(x) = \frac{e^x - e^{-x}}{e^x + e^{-x}}$

- 1) a- Calcul de limites de f :

$$\lim_{x \rightarrow -\infty} f(x) = \lim_{x \rightarrow -\infty} \frac{e^{-x}(e^{2x} - 1)}{e^{-x}(e^{2x} + 1)} = \frac{0 - 1}{0 + 1} = -1$$

$$\lim_{x \rightarrow +\infty} f(x) = \lim_{x \rightarrow +\infty} \frac{e^x(1 - e^{-2x})}{e^x(1 + e^{-2x})} = \lim_{x \rightarrow +\infty} \frac{1 - \frac{1}{e^{2x}}}{1 + \frac{1}{e^{2x}}} = \frac{1 - 0}{1 + 0} = 1$$

Interprétation graphique : la courbe de f admet deux asymptotes horizontales, l'une d'équation $y = -1$ au voisinage de $-\infty$, l'autre d'équation $y = 1$ au voisinage de $+\infty$.

- b- Démonstration que f est impaire et le tableau de variation de f

- $Df = \mathbb{R} \Rightarrow \forall x \in Df; -x \in Df$
- $f(-x) = \frac{e^{-x} - e^x}{e^{-x} + e^x} = -f(x)$ **alors f est une fonction impaire.**

• Les variations de f

$$f'(x) = \frac{(e^x + e^{-x})(e^x + e^{-x}) - (e^x - e^{-x})(e^x - e^{-x})}{(e^x + e^{-x})^2}$$

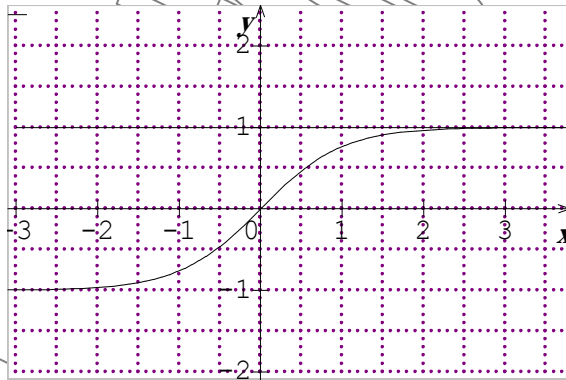
$$f'(x) = \frac{(e^{2x} + 2e^{-x}e^x + e^{-2x}) - (e^{2x} - 2e^{-x}e^x + e^{-2x})}{(e^x + e^{-x})^2}$$

$$f'(x) = \frac{4e^{-x}e^x}{(e^x + e^{-x})^2} = \frac{4}{(e^x + e^{-x})^2} \geq 0$$

Alors f a le tableau de variation suivant

x	$-\infty$		$+\infty$
f'(x)		+	
f(x)	-1	↗ 1	

c- La courbe (C) représentative de f dans un repère orthonormé (O, \vec{i}, \vec{j}) d'unité 1 cm



d- Calcul de A, l'aire du domaine plan limité par la courbe (C), l'axe (Ox) et les droites d'équations $x = 0$ et $x = \ln 3$; on remarque que (C) est au-dessus de l'axe (Ox) sur $[0; \ln 3]$

$$A = \int_0^{\ln 3} f(x) dx = \int_0^{\ln 3} \frac{e^x - e^{-x}}{e^x + e^{-x}} dx = \left[\ln(e^x + e^{-x}) \right]_0^{\ln 3}$$

$$= \ln\left(3 + \frac{1}{3}\right) - \ln(1+1) = \ln \frac{5}{3}$$

2) On définit la suite numérique (U_n) par $U_n = \int_0^{\ln 3} (f(t))^n dt$

a) Calcul de U_1

$$U_1 = \int_0^{\ln 3} f(t) dt = A = \ln \frac{5}{3}$$

b) Montrons que pour tout entier naturel n, on a: $0 \leq U_n \leq \left(\frac{4}{5}\right)^n \ln 3$:

- On sait que f est croissante sur l'intervalle $[0; \ln 3]$

Alors $\forall t \in [0; \ln 3]$ $f(0) \leq f(t) \leq f(\ln 3) \Rightarrow 0 \leq (f(t))^n \leq \left(\frac{4}{5}\right)^n$

$$\Rightarrow \int_0^{\ln 3} 0 dt \leq \int_0^{\ln 3} (f(t))^n dt \leq \int_0^{\ln 3} \left(\frac{4}{5}\right)^n dt$$

$$\Rightarrow 0 \leq U_n \leq \left(\frac{4}{5}\right)^n [t]_0^{\ln 3}$$

Donc $0 \leq U_n \leq \left(\frac{4}{5}\right)^n \ln 3$

- Comme $\lim_{n \rightarrow +\infty} \left(\frac{4}{5}\right)^n = 0$ alors d'après le théorème des gendarmes $\lim_{n \rightarrow +\infty} U_n = 0$

c) Vérifions que pour tout $x \geq 0$, $1 - f'(x) = (f(x))^2$:

$$\begin{aligned} 1 - f'(x) &= 1 - \frac{4e^{-x}e^x}{(e^x + e^{-x})^2} = \frac{(e^x + e^{-x})^2 - 4e^{-x}e^x}{(e^x + e^{-x})^2} = \frac{e^{2x} + 2e^{-x}e^x + e^{-2x} - 4e^{-x}e^x}{(e^x + e^{-x})^2} \\ &= \frac{e^{2x} - 2e^{-x}e^x + e^{-2x}}{(e^x + e^{-x})^2} = \frac{(e^x - e^{-x})^2}{(e^x + e^{-x})^2} = (f(x))^2 \end{aligned}$$

Montrons que $\forall n \geq 0$, $U_{n+2} - U_n = \frac{-1}{n+1} \left(\frac{4}{5}\right)^{n+1}$

$$\begin{aligned} U_{n+2} - U_n &= \int_0^{\ln 3} (f(t))^{n+2} dt - \int_0^{\ln 3} (f(t))^n dt \\ &= \int_0^{\ln 3} [(f(t))^{n+2} - (f(t))^n] dt \\ &= \int_0^{\ln 3} (f^n(t) [(f(t))^2 - 1]) dt \\ &= \int_0^{\ln 3} (f^n(t) [-f'(t)]) dt \\ &= - \int_0^{\ln 3} (f'(t) \times f^n(t)) dt \\ &= \left[-\frac{1}{n+1} f^{n+1}(t) \right]_0^{\ln 3} \\ &= -\frac{1}{n+1} [(f(\ln 3))^{n+1} - (f(0))^{n+1}] \\ &= \frac{-1}{n+1} \left(\frac{4}{5}\right)^{n+1} \end{aligned}$$

Alors $\forall n \geq 0$, $U_{n+2} - U_n = \frac{-1}{n+1} \left(\frac{4}{5}\right)^{n+1}$

d) Pour tout entier naturel n strictement positive

- Montrons que $U_{2n} = \ln 3 - \sum_{p=1}^n \frac{1}{2p-1} \left(\frac{4}{5}\right)^{2p-1}$

On applique la relation démontrée dans la question 2) c):

$$\forall k \geq 2 \quad U_k - U_{k-2} = \frac{-1}{k-1} \left(\frac{4}{5}\right)^{k-1} \text{ pour les termes consécutifs d'indices pairs de la}$$

suite (U_n) , termes d'indices $k = 2p$ et $k - 2 = 2p - 2$, $p \in \mathbb{N}^*$

$$\text{Donc } \forall p \geq 1 \quad U_{2p} - U_{2p-2} = \frac{-1}{2p-1} \left(\frac{4}{5}\right)^{2p-1}$$

$$\left\{ \begin{array}{l} p=1: \quad U_2 - U_0 = \frac{-1}{2 \times 1 - 1} \left(\frac{4}{5}\right)^{2 \times 1 - 1} \\ p=2: \quad U_4 - U_2 = \frac{-1}{2 \times 2 - 1} \left(\frac{4}{5}\right)^{2 \times 2 - 1} \\ p=3: \quad U_6 - U_4 = \frac{-1}{2 \times 3 - 1} \left(\frac{4}{5}\right)^{2 \times 3 - 1} \\ \dots \quad \dots - \dots = \dots \\ \dots \quad \dots - \dots = \dots \\ \dots \quad \dots - \dots = \dots \\ p=2n: \quad U_{2n} - U_{2n-2} = \frac{-1}{2n-1} \left(\frac{4}{5}\right)^{2n-1} \end{array} \right.$$

En additionnant et simplifiant membres à membres on obtient:

$$U_{2n} - U_0 = \sum_{p=1}^n \frac{-1}{2p-1} \left(\frac{4}{5}\right)^{2p-1} \text{ or } U_0 = \int_0^{\ln 3} (f(t))^0 dt = [t]_0^{\ln 3} = \ln 3$$

$$\text{Donc } U_{2n} = \ln 3 - \sum_{p=1}^n \frac{1}{2p-1} \left(\frac{4}{5}\right)^{2p-1}$$

- Montrons de même que $U_{2n+1} = \ln \frac{5}{3} - \sum_{p=1}^n \frac{1}{2p} \left(\frac{4}{5}\right)^{2p}$:

On applique la relation démontrée dans la question 2) c):

$$\forall k \geq 2 \quad U_k - U_{k-2} = \frac{-1}{k-1} \left(\frac{4}{5}\right)^{k-1} \text{ pour les termes successifs d'indices impairs de la}$$

suite (U_n) , termes d'indices $k = 2p+1$ et $k - 2 = 2p - 1$, $p \in \mathbb{N}^*$

$$\text{donc } U_{2p+1} - U_{2p-1} = \frac{-1}{2p} \left(\frac{4}{5}\right)^{2p} \quad \forall p \geq 1$$

Alors

$$\left\{ \begin{array}{l}
 p=1: \quad \cancel{U_3} - U_1 = \frac{-1}{2 \times 1} \left(\frac{4}{5}\right)^{2 \times 1} \\
 p=2: \quad \cancel{U_5} - \cancel{U_3} = \frac{-1}{2 \times 2} \left(\frac{4}{5}\right)^{2 \times 2} \\
 p=3: \quad \cancel{U_7} - \cancel{U_5} = \frac{-1}{2 \times 3} \left(\frac{4}{5}\right)^{2 \times 3} \\
 \dots \quad \cancel{\dots} - \dots = \dots \\
 \dots \quad \dots - \dots = \dots \\
 \dots \quad \cancel{\dots} - \dots = \dots \\
 p=2n: \quad U_{2n+1} - \cancel{U_{2n-1}} = \frac{-1}{2n} \left(\frac{4}{5}\right)^{2n}
 \end{array} \right.$$

En additionnant et simplifiant membres à membres on obtient:

$$U_{2n+1} - U_1 = \sum_{p=1}^n \frac{-1}{2p} \left(\frac{4}{5}\right)^{2p} \quad \text{or} \quad U_1 = \ln \frac{5}{3}$$

$$\text{Donc } U_{2n+1} = \ln \frac{5}{3} - \sum_{p=1}^n \frac{1}{2p} \left(\frac{4}{5}\right)^{2p}$$

d) Pour tout entier naturel n strictement positif on pose

$$S_n = \frac{4}{5} + \frac{1}{2} \left(\frac{4}{5}\right)^2 + \frac{1}{3} \left(\frac{4}{5}\right)^3 + \frac{1}{4} \left(\frac{4}{5}\right)^4 \dots + \frac{1}{2n} \left(\frac{4}{5}\right)^{2n} = \sum_{p=1}^{2n} \frac{1}{p} \left(\frac{4}{5}\right)^p$$

Calcul de limite de la suite S_n

$$\text{On a } S_n = \sum_{p=1}^{2n} \frac{1}{p} \left(\frac{4}{5}\right)^p = \sum_{p=1}^n \frac{1}{2p} \left(\frac{4}{5}\right)^{2p} + \sum_{p=1}^n \frac{1}{2p-1} \left(\frac{4}{5}\right)^{2p-1}$$

Or, d'après la question 2) d) on a

$$\sum_{p=1}^n \frac{1}{2p-1} \left(\frac{4}{5}\right)^{2p-1} = -U_{2n} + \ln 3 \quad \text{et}$$

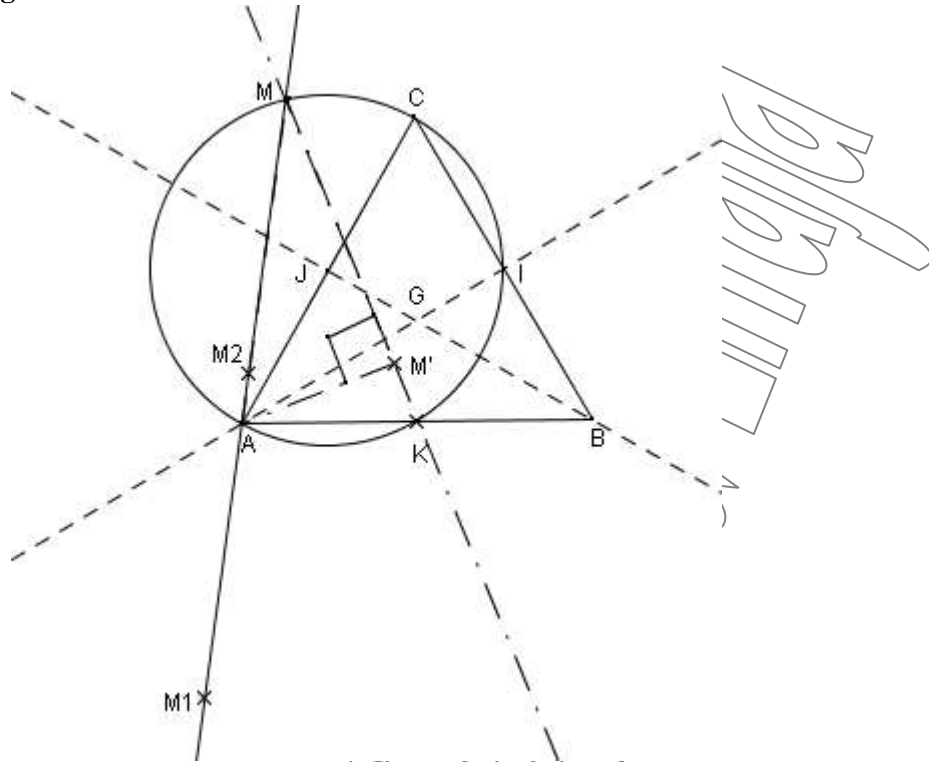
$$\sum_{p=1}^n \frac{1}{2p} \left(\frac{4}{5}\right)^{2p} = -U_{2n+1} + \ln \frac{5}{3}$$

$$\text{Alors } S_n = -U_{2n} + \ln 3 - U_{2n+1} + \ln \frac{5}{3}$$

$$\text{Et comme } \lim_{n \rightarrow +\infty} U_n = 0 \quad \text{alors } \lim_{n \rightarrow +\infty} S_n = \ln 5$$

EXERCICE 4

1) a) La figure



b) Montrons qu'il existe une seule rotation r_1 qui transforme I en A et B en J :

Comme $\begin{cases} \overline{AJ} = \overline{IB} = \frac{a}{2} \\ \overline{AJ} \neq \overline{IB} \end{cases}$ alors il existe une unique rotation r_1 qui transforme I

en A et B en J

c) l'angle de r_1

$$\alpha_1 = (\overline{IB}, \overline{AJ}) = (\overline{CB}, \overline{AC}) = (\overline{CB}, \overline{AC}) + \pi = -\frac{\pi}{3} + \pi [2\pi]$$

$$\alpha_1 = \frac{2\pi}{3} [2\pi]$$

Le centre $\Omega = \text{med}[IA] \cap \text{med}[BJ]$

$$\Rightarrow \Omega = K$$

Conclusion $r_1(K; \frac{2\pi}{3})$

2) Soit r_2 la rotation de centre I et d'angle $\frac{\pi}{3}$

a) Déterminons $r_2(C)$ et $r_2(J)$

Comme ICJ est équilatéral direct alors $r_2(C) = J$

De même IJK est équilatéral direct d'ou $r_2(J) = K$

b) L'image de la droite (AC) :

On a $(AC) = (CJ)$ donc $r_2(AC) = r_2(CJ) = (JK)$

3) Soit h l'homothétie de centre G et de rapport $\frac{-1}{2}$ et on pose $s = r_1 \circ h$

a) l'image du triangle ABC par $h(G; \frac{-1}{2})$:

Comme $\vec{GI} = -\frac{1}{2}\vec{GA}$ alors $h(A) = I$

Comme $\vec{GJ} = -\frac{1}{2}\vec{GB}$ alors $h(B) = J$

Comme $\vec{GK} = -\frac{1}{2}\vec{GC}$ alors $h(C) = K$

Alors $h(ABC) = IJK$

b) Nature et caractérisation de s :

$s = r_1 \circ h$ est la composée une rotation d'angle $\frac{2\pi}{3}$ et d'une homothétie de rapport négatif $\frac{-1}{2}$, donc S est une similitude directe de rapport

$$k = \left| \frac{-1}{2} \right| = \frac{1}{2} \text{ et d'angle } \pi + \frac{2\pi}{3} = \frac{5\pi}{3} = \frac{6\pi - \pi}{3} = \frac{-\pi}{3} [2\pi]$$

c) Détermination de s(A)

On a $s(A) = r_1 \circ h(A) = r_1(I) = A$

Comme $s(A) = A$ on peut dire que A est le centre de la similitude s.

d) La forme réduite de s : c'est la composée de l'homothétie de rapport $k = \frac{1}{2}$

et de centre A et la rotation d'angle $\frac{-\pi}{3}$ et de centre A :

Soit $h'(A; \frac{1}{2})$ et $r'(A; \frac{-\pi}{3})$ alors $s = r' \circ h' = h' \circ r'$

4) On pose $s^1 = s$ et $s^{n+1} = s \circ s^n$

a) Caractérisation de s^3

s^3 est la composée des similitudes de même centre A et dont la somme des

$$\text{angles } \frac{\pi}{3} + \frac{\pi}{3} + \frac{\pi}{3} = \pi$$

Donc s^3 est une homothétie de rapport négatif $-\left(\frac{1}{2}\right)^3 = -\frac{1}{8}$ et de centre A

$$s^3 = H(A, -\frac{1}{8})$$

b) On pose $p = 10^{2011}$ montrons que s^{p-1} est une homothétie de rapport négatif, pour cela il suffit de montrer que l'angle de la similitude s^{p-1} est un multiple impair de π :

$$\bullet \quad p-1 = 10^{2011} - 1 = \underbrace{99\dots9}_{2011 \text{ fois}} = 9 \times \underbrace{11\dots1}_{2011 \text{ fois}}$$

Donc $p-1$ est un multiple impair de 9 et par conséquent

$$p-1 = 9(2k+1), \quad k \in \mathbb{N}$$

Donc l'angle α de s^{p-1} :

$$\begin{aligned} \alpha &= (p-1)\left(-\frac{\pi}{3}\right) = 9(2k+1)\left(-\frac{\pi}{3}\right) \\ &= -3(2k+1)\pi \\ &= \pi[2\pi] \end{aligned}$$

- Autre méthode

$$p-1 = 10^{2011} - 1 = (10-1) \frac{10^{2011} - 1}{10-1} = 9 \times \frac{1-10^{2011}}{1-10}$$

Or $\frac{1-10^{2011}}{1-10}$ est la somme de 2011 termes consécutifs de la suite géométrique de raison 10 et

$$\text{de premier terme 1: } 1 + 10 + 10^2 + \dots + 10^{2010} = \frac{1-10^{2011}}{1-10}$$

$$\text{Alors on peut écrire } p-1 = 9(1 + 10 + 10^2 + \dots + 10^{2010})$$

Et comme pour tout entier naturel n, 10^n est pair alors l'entier $1 + 10 + 10^2 + \dots + 10^{2010}$ est impaire

Ce qui signifie qu'il existe $k \in \mathbb{N}$ tel que $1 + 10 + 10^2 + \dots + 10^{2010} = 2k + 1$

$$\text{D'où } p-1 = 9(2k+1).$$

Donc l'angle α de s^{p-1} :

$$\begin{aligned} \alpha &= (p-1)\left(-\frac{\pi}{3}\right) = 9(2k+1)\left(-\frac{\pi}{3}\right) \\ &= \pi[2\pi] \end{aligned}$$

Conclusion: si $p = 10^{2011}$ alors s^{p-1} est une similitude d'angle π , donc c'est une homothétie de rapport négatif

- 5) Pour tout point M du plan, on pose

$$r_1(M) = M_1, r_2(M) = M_2 \text{ et } s(M) = M' \text{ (voir la figure).}$$

- a) Détermination de M_1 et M_2

- Si $M = I$: alors $\begin{cases} M_1 = r_1(I) = A \\ M_2 = r_2(I) = I \end{cases}$
- Si $M = K$: alors $\begin{cases} M_1 = r_1(K) = K \\ M_2 = r_2(K) = B \end{cases}$
- Si $M = A$: alors $\begin{cases} M_1 = r_1(A) = J' \text{ tel que } J' = S_K(J) \\ M_2 = r_2(A) = I' \text{ tel que } I' = S_{BK}(I) \end{cases}$

- b) Montrons que le triangle AMM' est rectangle en M' :

$$\text{On a } s(M) = M' \text{ alors } \begin{cases} AM' = \frac{1}{2} AM \\ (\overrightarrow{AM}, \overrightarrow{AM'}) = -\frac{\pi}{3}[2\pi] \end{cases}$$

D'après la relation d'Alkashi

$$MM'^2 = AM^2 + AM'^2 - 2AM \cdot AM' \cos\left(-\frac{\pi}{3}\right)$$

$$MM'^2 = AM^2 + \frac{1}{4}AM^2 - \cancel{2}AM \cdot \frac{1}{\cancel{2}}AM \times \frac{1}{2}$$

$$MM'^2 = \frac{3}{4}AM^2$$

Donc on trouve

$$\begin{aligned} AM'^2 + MM'^2 &= \frac{1}{4}AM^2 + \frac{3}{4}AM^2 \\ &= AM^2 \end{aligned}$$

Comme $AM'^2 + MM'^2 = AM^2$ donc d'après le réciproque de Pythagore le triangle AMM' est rectangle en M'

c) Déterminons l'ensemble Γ de points M du plan tel que M, M_1 et M_2 soient alignés:

D'après Chasles

$$\boxed{(\overrightarrow{MM_1}, \overrightarrow{MM_2}) = (\overrightarrow{MM_1}, \overrightarrow{MK}) + (\overrightarrow{MK}, \overrightarrow{MI}) + (\overrightarrow{MI}, \overrightarrow{MM_2})} *$$

- $r_1(K; \frac{2\pi}{3}) : M \rightarrow M_1$ Donc le triangle KMM_1 est isocèle direct en K ; et $(\overrightarrow{KM}, \overrightarrow{KM_1}) = \frac{2\pi}{3}$

$$\text{K; et } (\overrightarrow{KM}, \overrightarrow{KM_1}) = \frac{2\pi}{3}$$

$$\text{Par conséquent } (\overrightarrow{MM_1}, \overrightarrow{MK}) = \frac{\pi}{6} [2\pi]$$

- $r_2(I; \frac{\pi}{3}) : M \rightarrow M_2$ Donc le triangle IMM_2 est équilatéral direct.

$$\text{Par conséquent } (\overrightarrow{MI}, \overrightarrow{MM_2}) = -\frac{\pi}{3} [2\pi]$$

Donc en remplaçant dans la relation * on obtient:

$$\begin{aligned} (\overrightarrow{MM_1}, \overrightarrow{MM_2}) &= \frac{\pi}{6} + (\overrightarrow{MK}, \overrightarrow{MI}) - \frac{\pi}{3} [2\pi] \\ &= (\overrightarrow{MK}, \overrightarrow{MI}) - \frac{\pi}{6} [2\pi] \end{aligned}$$

Alors les points M, M_1 et M_2 soient alignés si et seulement si:

$$\begin{aligned} (\overrightarrow{MM_1}, \overrightarrow{MM_2}) = 0 [\pi] &\Leftrightarrow (\overrightarrow{MK}, \overrightarrow{MI}) - \frac{\pi}{6} = 0 [\pi] \\ &\Leftrightarrow (\overrightarrow{MK}, \overrightarrow{MI}) = \frac{\pi}{6} [\pi] \end{aligned}$$

$$\text{Et comme } (\overrightarrow{AK}, \overrightarrow{AI}) = \frac{\pi}{6} [\pi] \text{ alors } (\overrightarrow{AK}, \overrightarrow{AI}) = (\overrightarrow{MK}, \overrightarrow{MI}) [\pi]$$

D'où M, K, I et A sont cocycliques, alors M appartient au cercle de diamètre $[AC]$

Alors L'ensemble Γ de points M du plan tel que M, M_1 et M_2 soient alignés est le cercle de diamètre

$[AC]$ Privé de K et I .

- 6) On suppose dans cette question que M est situé sur le cercle de diamètre $[AC]$ privé de A

a) Montrons que la droite (MM_2) passe par un point fixe :

On sait que M est situé sur le cercle de diamètre $[AC]$ privé de A

Donc $(\overrightarrow{MI}, \overrightarrow{MA}) = (\overrightarrow{CI}, \overrightarrow{CA}) = -\frac{\pi}{3} [\pi]$ D'où $(\overrightarrow{MI}, \overrightarrow{MA}) = -\frac{\pi}{3} [\pi]$

Dans le triangle MIM_2 équilatéral indirect on a $(\overrightarrow{MI}, \overrightarrow{MM_2}) = -\frac{\pi}{3} [\pi]$

D'où $(\overrightarrow{MI}, \overrightarrow{MA}) = (\overrightarrow{MI}, \overrightarrow{MM_2}) [\pi]$

$\Rightarrow (\overrightarrow{MI}, \overrightarrow{MA}) - (\overrightarrow{MI}, \overrightarrow{MM_2}) = 0 [\pi]$

$\Rightarrow (\overrightarrow{MI}, \overrightarrow{MA}) + (\overrightarrow{MM_2}, \overrightarrow{MI}) = 0 [\pi]$

Alors de Chasles on a: $(\overrightarrow{MM_2}, \overrightarrow{MA}) = 0 [\pi]$ donc les points M, A et M_2 sont alignés.

Conclusion; la droite (MM_2) passe par le point fixe A.

b) Montrons que la droite (MM') passe par un point fixe :

On sait que le triangle AMM' rectangle en M' on a $(\overrightarrow{AM}, \overrightarrow{AM'}) = \frac{-\pi}{3} [\pi]$

D'où:

$(\overrightarrow{MM'}, \overrightarrow{MA}) = \frac{-\pi}{6} [\pi]$

Or M est sur le cercle de diamètre $[AC]$ alors on a

$(\overrightarrow{MA}, \overrightarrow{MK}) = (\overrightarrow{CA}, \overrightarrow{CK}) = \frac{\pi}{6} [\pi]$

En sommant membres à membres les deux dernières relations on obtient:

$(\overrightarrow{MM'}, \overrightarrow{MA}) + (\overrightarrow{MA}, \overrightarrow{MK}) = 0 [\pi]$

Alors $(\overrightarrow{MM'}, \overrightarrow{MK}) = 0 [\pi]$

Conclusion: la droite (MM') passe par le point fixe K.

c) Montrons que l'angle (M_1M_2, MM') a une mesure constante α , et déterminons cette mesure:

- On sait que M est sur le cercle de diamètre $[AC]$ alors les points M, M_1 et M_2 sont alignés et les points A, M et M_2 le sont aussi.

Alors les points A, M, M_1 et M_2 sont alignés, d'où les vecteurs \overrightarrow{MA} et $\overrightarrow{M_1M_2}$ sont colinéaires

- On sait que les points M, M' et K sont alignés, donc les vecteurs $\overrightarrow{MM'}$ et \overrightarrow{MK} sont colinéaires.

Alors $(\overrightarrow{M_1M_2}, \overrightarrow{MM'}) = (\overrightarrow{MA}, \overrightarrow{MK})$: colinéarité
 $= (\overrightarrow{CA}, \overrightarrow{CK})$: cocyclicité

Donc $(\overrightarrow{M_1M_2}, \overrightarrow{MM'}) = \frac{\pi}{6} [\pi]$

Conclusion: L'angle (M_1M_2, MM') garde la mesure constante $\frac{\pi}{6}$ si M décrit le cercle de diamètre $[AC]$ privé de A .